



# सत्रारम्भ : आधार रेखा आकलन/पदस्थापन

सत्र : 2017-18

कक्षा :- 2

विषय :- गणित


दिनांक :-

विद्यार्थी का नाम :-

रोल नं. :-

## आकृति एवं स्थान की समझ

1. नीचे दिए चित्र में आकृतियों को पहचानिए एवं उनकी



4. ठीक पहले एवं ठीक बाद की संख्या लिखिए—

(i) ..... , 10 , .....

(ii) ..... , 31 , .....

(iii) ..... , 45 , .....

5. नीचे दिए गए प्रश्नों को हल कीजिए—

$$\begin{array}{r} 2 \quad 5 \\ + \\ \hline \end{array} \qquad \begin{array}{r} 1 \quad 4 \\ + \\ \hline \end{array}$$


$$\begin{array}{r} 2 \quad 5 \\ - \\ \hline \end{array} \qquad \begin{array}{r} 2 \quad 8 \\ - \\ \hline \end{array}$$

## संख्या ज्ञान की समझ


2. संख्या चार्ट को पूरा कीजिए—



3. नीचे दी गई संख्या पहचानकर उतने ही चित्रों को



6. क्रम को पहचान कर आगे बढ़ाइए —



जाँचकर्ता की टिप्पणी :- .....

.....  
 .....  
 .....  
 .....