

आधार रेखा आकलन / पदस्थापन 2018-19

कक्षा - 3

विषय - गणित

दिनांक -

विद्यार्थी का नाम

रोल नं. -

1. संख्या चार्ट को पूरा कीजिए-

21	25
30	36
.....	42

2. बड़ी संख्या पर घेरा बनाइए-

46, 56	77, 57	28, 48	19, 99
--------	--------	--------	--------

3. बाद वाली संख्या से मिलान कीजिए-

29	74
41	55
54	42
73	30


4. हल कीजिए-

24	67	95	68	6	8
+ 35	+ 22	- 23	- 44	× 4	× 5
_____	_____	_____	_____	_____	_____

5. पैटर्न को आगे बढ़ाइये-






- (अ) \triangle \bigcirc \triangle \bigcirc
- (ब) 2, 4, 6,

6. चित्र देखकर बताइए-



गोल
तिकोने
चौकोर

7. सही गुब्बारा पकड़ाओ-



आकलन पश्चात विद्यार्थी का कक्षा स्तर :-

जांचकर्ता टिप्पणी :-

जांचकर्ता हस्ताक्षर

www.rajteachers.com

दिनांक :-