

प्राथमिक शिक्षा अधिगम स्तर मूल्यांकन 2018

नमूना मूल्यांकन पत्रक

कक्षा – 5

विषय – हिन्दी

समय / Time – 02.30 Hrs.

पूर्णांक / M.M. – 80

नामांक / Roll No (अंकों में) ..... दिनांक / Date.....

नामांक (शब्दों में).....

Roll No. In Words ..... वार / Day.....

विद्यार्थी हेतु सामान्य निर्देश :-

1. विद्यार्थी सर्वप्रथम अपने नामांक, दिनांक आदि की पूर्तियाँ करें।
2. प्रत्येक प्रश्न हिन्दी विषय के लिए निर्धारित अधिगम क्षेत्र के अनुसार है।
3. सभी प्रश्न हल करना अनिवार्य है।
4. प्रत्येक प्रश्न का उत्तर प्रश्न-पत्र में दिए गए निर्धारित स्थान पर ही लिखें।
5. जिन प्रश्नों में आन्तरिक खण्ड हैं उन सभी के उत्तर एक साथ ही लिखें।
6. सभी प्रश्नों के अंक उनके सामने अंकित हैं।

हस्ताक्षर वीक्षक / Signature of invigilator

दक्षताएं (अधिगम क्षेत्र) Competencies / Learning area	अंकभार Marks	प्राप्तांक / Marks Obtained	प्राप्त ग्रेड / Grade Awarded
समझना और लिखना (गद्य) 1,2,3,4,5,6,7,8,9,10	22		
पढ़ना, पढ़कर समझना और लिखना (पद्य) 11,12,13,14	13		
व्यावहारिक व्याकरण 15,16,17 (अ, ब), 18	13		
सृजनात्मक अभिव्यक्ति 19,20,21,22	24		
परिवेशीय सजगता 23 (अ,ब)	08		
कुल	80		

हस्ताक्षर परीक्षक / Singnature of Examiner

निर्देश – सही उत्तर का क्रमाक्षर कोष्ठक में लिखिए।

1. जीवन में कितनी भी बड़ी विपदा आ जाए तो भी उनसे मुकाबला करने की क्षमता किसमें होती है? 1  
 (अ) पहलवान में (ब) अमीर व्यक्ति में  
 (स) सदाचारी व्यक्ति में (द) गरीब व्यक्ति में ( )
2. 'भगिनी निवेदिता को नारी शक्ति का प्रतीक कहा गया है 'प्रस्तुत' पंक्ति में भगिनी शब्द का अर्थ है- 1  
 (अ) पत्नी (ब) माता  
 (स) भार्या (द) बहिन ( )
3. त्रिकूट पहाड़ी पर बना हुआ किला है- 1  
 (अ) जैसलमेर का (ब) कुम्भलगढ़ का  
 (स) चित्तौड़गढ़ का (द) रणथम्भोर का ( )

निम्नलिखित प्रश्नों के उत्तर एक पंक्ति में दीजिए।

4. उदयसिंह के पलंग पर पन्नाधाय ने किसको सुलाया? 1  
 .....
5. लौहपुरुष सरदार पटेल ने किस मंदिर का जीर्णोद्धार करवाया ? 1  
 .....
6. प्रजापति ने भोजन पर किन को आमंत्रित किया ? 1  
 .....
7. सदाचार का हमारे जीवन में क्या महत्त्व है ? पाँच पंक्तियाँ लिखिए- 3  
 .....  
 .....  
 .....  
 .....
8. पन्नाद्याय के त्याग और बलिदान को अपने शब्दों में लिखिए। 3  
 .....  
 .....  
 .....  
 .....

9. खण्ड 'अ' को खण्ड 'ब' से सही मिलान कीजिए। 4

अ	ब
स्वस्थ तन	अच्छा स्वास्थ्य पाओ
साफ सुथरा	सुखी जीवन
गंदगी	घर हमारा

10. भगिनी निवेदिता ने विवेकानन्द के उपदेशों को जन-जन तक पहुँचाने का कार्य करने के साथ-साथ कलकत्ता में लड़कियों का एक स्कूल भी आरम्भ किया। वहाँ छोटी लड़कियों को पढ़ाने लिखाने के साथ-साथ मिट्टी का काम चित्रकारी का काम आदि भी सिखाया। जब कलकत्ता में महामारी फैली तो निवेदिता ने टोली बनाकर दिन-रात भूख-प्यास की चिंता किए बिना रोगियों की चिकित्सा, सेवा-सफाई आदि कार्य कर पीड़ितों की मदद की। उन्होंने अंग्रेजी समाचार पत्रों में अपील प्रसारित कर मदद मांगी व धन संग्रह भी किया। वह लेखन कला एवं बोलने में निपुण थी। इस क्षमता का उपयोग कर वह अपनी बात बड़े-बड़े समूहों तक पहुँचाने में सफल रही।

निम्नांकित प्रश्नों के उत्तर उपर्युक्त गद्यांश को पढ़कर दीजिए।

- (i) भगिनी निवेदिता ने लड़कियों के लिए क्या किया? 1½

.....

.....

.....

- (ii) भगिनी निवेदिता ने लड़कियों को पढ़ाने-लिखाने के अतिरिक्त और क्या-क्या कार्य सिखाए। 1½

.....

.....

.....

- (iii) कलकत्ता में महामारी फैलने पर भगिनी निवेदिता ने किस प्रकार मदद की। 1½

.....

.....

.....

- (iv) निवेदिता ने पीड़ितों की सहायता के लिए धन संग्रह कैसे किया ? 1½

.....

.....

.....

**पढ़ना, पढ़कर, समझना और लिखना (पद्य)**

**अंक- 13**

11. भाई - बहिनों का त्यौहार है- 1
- (अ) ईद (ब) होली
- (स) राखी (द) दीपावली ( )
12. कबीर ने गुरु को ईश्वर से बड़ा क्यों बताया है? 3

.....

.....

- .....
- .....
13. किताबें हमारे लिए किस प्रकार उपयोगी हैं ? 3
- .....
- .....
- .....
14. दिए गए शब्दों में से सही शब्द का चयन कर रिक्त स्थानों की पूर्ति कीजिए। 6  
(भरत, चंदन, मिताई, कुटुम, ज्ञान, मल्हार)
- (i) कहाँ सुदामा बापुरौ, कृष्ण ..... जोग।
- (ii) साईं इतना दीजिए, जामैं ..... समाय।
- (iii) इस माटी का कण-कण .....।
- (iv) हम भारत के ..... खेलते, शेरों की संतान से।
- (v) घर-बाहर झूले ही झूले, गाते राग ..... हैं।
- (vi) किताबों में ..... की भरमार है।

### व्यावहारिक व्याकरण

अंक- 13

15. पुष्प का समानार्थी शब्द है। 1
- (अ) कमल (ब) पेड़
- (स) कुसुम (द) शाखा ( )
16. निम्नलिखित मुहावरों का वाक्यों में प्रयोग कीजिए- 2
- (अ) (i) फूले न समाना।
- .....
- (ii) टूट पड़ना।
- .....
- (ब) निम्नलिखित शब्दों के लिंग परिवर्तन कर पुनः लिखिए- 2
- (i) लड़का .....
- (ii) गाय .....
- (iii) राजा .....
- (iv) छात्र .....
17. (अ) नीचे दिए गए वाक्य में से क्रिया व संज्ञा पद छांटिए 2
- (i) राम विद्यालय जाता है।
- संज्ञा .....
- क्रिया .....
- (ब) नीचे दिए गए वाक्य में से सर्वनाम व विशेषण पद छांटिए 2

- (ii) वह लड़की सुन्दर हैं।  
 सर्वनाम .....  
 विशेषण .....

18. (अ) निम्नलिखित शब्दों में से मूल शब्द व उपसर्ग को अलग-अलग कीजिए— 2
- | शब्द        | मूलशब्द | उपसर्ग |
|-------------|---------|--------|
| (i) अनुशासन | .....   | .....  |
| (ii) विदेश  | .....   | .....  |

(ब) निम्नलिखित शब्दों में से मूल शब्द व प्रत्यय को अलग-अलग कीजिए।

शब्द	मूल शब्द	प्रत्यय
I-		
II-		

सृजनात्मक अभिव्यक्ति

19. अपने विद्यालय में मनाए गए गणतंत्र दिवस समारोह के अनुभव को संवाद रूप में लिखिए। 4
- मित्र .....
- स्वयं .....
- मित्र .....
- स्वयं .....
- मित्र .....
- स्वयं .....

20. निम्नलिखित में से किसी एक कहानी को कल्पना के आधार पर लिखिए। 8
- ( अ ) खट्टे अंगूर
- ( ब ) प्यासा कौआ

.....

.....

.....

.....

**अथवा**

निम्नलिखित विषयों में से किसी एक विषय पर दस पंक्तियों में निबन्ध लिखिए—

- ( अ ) गणतंत्र दिवस
- ( ब ) मेरा प्रिय शिक्षक
- ( स ) मेरे गाँव का मेला
- ( द ) हमारा विद्यालय

.....

.....

.....

.....

.....  
.....  
.....  
.....  
.....  
.....  
.....  
.....  
.....  
.....

21. स्वयं को रायपुर निवासी सुमित मानते हुए आपने प्रधानाध्यापक जी को बसंत पंचमी पर्व पर भ्रमण पर ले जाने हेतु प्रार्थना-पत्र लिखिए। 6

.....  
.....  
.....  
.....  
.....  
.....  
.....  
.....  
.....  
.....  
.....  
.....  
.....  
.....  
.....  
.....  
.....  
.....  
.....  
.....

22. दिए गए वाक्यों को पढ़कर वर्ग पहेली पूर्ण कीजिए। 6

- (i) श्री राम की पत्नी का नाम .....
- (ii) जल में खिलने वाला फूल .....
- (iii) एक पक्षी .....
- (iv) वजन करना .....
- (v) मेघ का पर्यायवाची .....
- (vi) लाइन, पंक्ति

बा	क	-	तो
म	-	सी	द
-	ता	ल	-
र	-	-	ना

**परिवेशीय सजगता अंक- 8**

23. अपने कक्षा-कक्ष को स्वच्छ एवं सुसज्जित रखने के लिए- 4  
( अ ) आप क्या करेंगे।

.....  
.....  
.....  
.....

( ब ) सड़क पर पैदल चलते समय क्या-क्या सावधानियाँ रखनी चाहिए।

4

.....  
.....  
.....  
.....

# Primary Education Learning Level Evaluation- 2018

Class- V

Sub – English

Time – 02.30 Hrs.

M.M. – 80

Roll No. (In Figures)..... Date .....

Roll No. (In words) ..... Day .....

## Instructions for the Students:-

1. Question paper is based on the learning areas for the subject.
2. The students must compulsorily write their roll number on the question paper itself.
3. The answer to each question must be written in the space provided for it in the question paper
4. The answers to the internal sections of a question must be written all together in the space provided.
5. The marks of all the questions are mentioned in front of them.

Invigilator's Signature

## Grade List

S.No.	Learning objectives	Maximum Marks	Marks Obtained	Grade
1.	Lexical items	16		
2.	Structural items	17		
3.	Reading comprehension	31		
4.	Writing	16		
	<b>Total</b>	<b>80</b>		

Signature of Examiner



**Lexical Items Marks: 16**

1. Choose the word which has a different sound of the underlined letter: 1  
 (a) Cut            (b) But            (c) Put            (d) Bus ( )
2. A ..... Light is a signal for getting ready: 1  
 (a) Red            (b) Yellow            (c) Green            (d) Black ( )
3. Write One word for the group of words given below: 2  
 (i) Mother and father  
 P.....  
 (ii) A place where we live in  
 H.....
4. Write the opposites of the following words: 2  
 (i) Day.....  
 (ii) Good.....
5. The chair is clean but the table is d.....(opposite).2
6. complete the sentence \ with appropriate words. 2  
 (i) We should follow the t..... rules.  
 (ii) The colour of milk is generally w.....
7. Arrange the following jumbled letters to make meaningful words. 2  
 (i) Shocol .....  
 (ii) Csals .....
8. Fill in the blanks with the missing letters. 2  
 (i) m.....rn.....ng.  
 (ii) p...l....ce
9. make a sentence using the word "book" 2  
 .....  
 .....

**Structural Items**

**Marks- 17**

Choose the correct words given in brackets to complete the sentences:-

10. Be careful while .....the road. ( cross/crossing ) 2
11. He is young, he .....run fast. ( can /can't ) 1
12. fill in the blank using correct form of verbs given in brackets:
  - (i) I ..... milk every day. (Take) 1
  - (ii) My father likes sweets but my mother ..... sweets. (Not like) 1
  - (iii) My uncle ..... a new car next month. (Buy) 1
  - (iv) She always ..... late to school. (Come) 1
  - (v) I .....a movie yesterday. (See) 1

- (vi) My father .....the officer tomorrow. (Meet) 1
13. fill in the blacks with appropriate words given in brackets:
- (i) ..... sun rises in the east. ( a/ an/ the ) 1
- (ii) I have just seen ..... aero plane. ( a/ an/ the ) 1
- (iii)Ravi is my brother..... is very weak. ( he/ she) 1
- (iv) Maharana pratap saved ..... mother land. ( her/ his) 1
- (v) ..... this day lord Ram got victory ..... Ravan ( in/ on/ over ) 1
14. Choose correct connecti e (and/ but/ or) to complete the sentences:
- (i) He is ninety years old..... he can walk fast. 1
- (ii) Are you coming on Sunday ..... Monday? 1
- (iii)Mukesh..... Reena are in class- v 1

Q.15-18 Read the passage and answer the questions given below:-

One fine day when the rats were playing they heard loud shouts of elephants coming from the direction of the pond. Mooshakraj realized that the elephants were in some danger. He asked some of the strong rats in his group to come along.

15. The passage is about. 1
- (a) cats (b) rats
- (c) Mooshakraj (d) the rats and the elephants ( )
16. (i) Who were playing? 3
- .....
- .....
- .....
- (ii) What did they hear? 3
- .....
- .....
- .....
17. (i) What did Mooshakraj realize? 3
- .....
- .....
- .....
- (ii) From where were the loud shouts coming? 3
- .....
- .....
- .....



18.

(i) What did he ask? .

3

(ii) who were in some danger?

3

19 – 20 Read the passage and answer the questions given below:-

Meena helped the old lady to stand up. She picked up all the fruits and put them into the basket. Meena threw the banana peel into a dustbin.

“ Oh! Thank you so much. May god bless you!” said the old lady.

19.

(i) Who helped the old lady to stand up?

3

(ii) What did she pick up?

3

20.

(i) Where did Meena throw the banana peel?

3

(ii) What did the old lady say?

3

**WRITING**

**Marks: 16**

21. You are Mamta studying in Govt. upper primary school, Hanspur. Your elder brother's marriage is in next week. Therefore you cannot go to school. Write an application to your Headmaster to grant you three day's leave.

8

.....  
.....  
.....  
.....  
.....  
.....  
.....  
.....  
.....  
.....  
.....

Or

You are Divya, living at Shivganj, Sirohi: Your friend Meena passed V Class Examination with A+ grade. Write a letter congratulating her on her success.

.....  
.....  
.....  
.....  
.....  
.....  
.....  
.....  
.....  
.....  
.....

22.

(i) Develop a paragraph on 'The cow' by filling in the blanks with suitable words given in brackets.

4

(Animal, big, useful, eats, long, milk, legs, ears, horns)

The Cow is an ..... It has four ..... and a .....tail. It has two ..... It gives us..... Its milk is .....for our health. It..... grass.)


Or

Look at the pictures given below and write 8 sentences with the help of these words:

(Has, car, drives, bicycl rides, boat, sails, aeroplane, flies, doll, plays)

(For example: He has a car. He drives it.)





- (i) .....
- (ii) .....
- (iii) .....
- (iv) .....
- (v) .....
- (vi) .....
- (vii) .....
- (viii) .....

23. Rewrite the given sentences in your own hand writing using capital letters, small letters and correct punctuation marks. ( , . ? ' )

- (a) Once upon a time there lived a man named Roshanlal. 1  
.....  
.....
- (b) Yes its possible. 1  
.....  
.....
- (c) What is your wish. 1  
.....  
.....
- (d) He said my dear friends, let's learn Pranayam. 1  
.....  
.....

प्राथमिक शिक्षा अधिगम स्तर मूल्यांकन 2018  
Primary Education Learning Level Evaluation 2018

नमूना मूल्यांकन पत्रक  
Sample Question Paper

कक्षा - 5

Class - 5

विषय - पर्यावरण अध्ययन

Subject - Environmental Studies

समय / Time - 02.30 Hrs.

पूर्णांक / M.M. - 80

नामांक / Roll No (IN FIGURES).....दिनांक / Date.....

नामांक (शब्दों में) / Roll No. In Words .....वार / Day.....

**निर्देश / Instructions: -**

- सभी प्रश्न अनिवार्य हैं।  
All Questions are compulsory.
- सभी प्रश्न निर्धारित दक्षता/अधिगम क्षेत्र पर आधारित हैं।  
All Questions are based on prescribed competencies/ learning areas.
- सभी प्रश्नों के सम्मुख उनके अंकभार अंकित हैं।  
Weightage of each question is written in front of it.
- प्रश्न पत्र 8 खण्डों में विभाजित है। सभी खण्ड हल करें।  
Questions paper is divided into 8 parts. Solve all the Questions. from each section.
- प्रत्येक प्रश्न का हल/उत्तर मूल्यांकन पत्रक में निर्धारित स्थान पर ही लिखें।  
Answer must be written in the space provided below the question.

हस्ताक्षर वीक्षक / Signature of invigilator

दक्षताएं (अधिगम क्षेत्र) Competencies/ Learning area	अंकभार Marks	प्राप्तांक / Marks Obtained	प्राप्त ग्रेड / Grade Awarded
अवलोकन व दर्ज करना / Observation and Recording	8		
सम्प्रेषण (अभिव्यक्ति / चर्चा) Communication Expression/discussion	9		
वर्गीकरण / Classification	21		
व्याख्या / विश्लेषण / Explanation / Analysis	16		
प्रश्न करना / Questioning	5		
प्रयोग करना / Experimenting	5		
न्याय व समता के प्रति सरोकार Concern towards justice and equity	8		
एक दूसरे के कार्यों का सम्मान व गुणों की प्रशंसा करना Honouring and appreciating each other's work and qualities	8		
योग Total	80		

हस्ताक्षर परीक्षक / Signature of Examiner



प्रश्न 1 अंकुरित आलू को काटे हुए हिस्से को मिट्टी में दबाने से आलू का पौधा उगता है, वैसे ही गुलाब को उगाने के लिए पौधे का कौनसा भाग लगाया जाएगा— 2

- (अ) जड़ (ब) तना (स) पत्ती (द) फूल ( )

By thrusting the cut off part of a germinated potato in the soil causes it to grow similarly, write which part of the rose will be thrust to cause it to grow?

- (a) Root (B) Stern (C) leaf (D) Flower ( )

प्रश्न 2 अनेक परिवार एक स्थान से दूसरे स्थान पर पलायन कर जाते हैं। उन परिवारों के पलायन के कोई तीन कारण लिखिए। 3

- (i) \_\_\_\_\_  
(ii) \_\_\_\_\_  
(iii) \_\_\_\_\_

Many families migrate to other places, write any three reasons of their migration

- (i) \_\_\_\_\_  
(ii) \_\_\_\_\_  
(iii) \_\_\_\_\_

प्रश्न 3 दिए गए मानचित्र में नागौर जिले के तीन पड़ोसी जिलों को छायांकित कीजिए। 1+1+1=3

Shade the three neighbouring districts of Nagaur district in the given map. 1+1+1=3



प्रश्न 4. अपने आस- पास के जलाशयों में हो रहे जल प्रदूषण को रोकने के कोई तीन उपाय लिखिए। 1+1+1=3

Write three measures to stop/ minimum water pollution around your local water bodies.

(i) .....

(ii) .....

(iii) .....

प्रश्न 5. सामान्य भोज्य पदार्थ जल्दी खराब हो जाते हैं। निम्नलिखित भोज्य पदार्थों को खराब होने से बचाने की विधि लिखिए (एक- एक) 1+1+1=3

(i) आलू .....

(ii) ग्यार फली .....

(iii) केरी का आचार .....

Usually food items get contaminated write the method to preserve these food items.

(i) Potato .....

(ii) Gum beans .....

(iii) Mango pickle .....

प्रश्न 6. निम्नलिखित आवासों के प्रकारों में उपयोग में ली जाने वाली सामग्री के नाम लिखिए- 1+1+1=3

Write names of things to be used for making the following types of houses.

क्र.सं.	आवास House	सामग्री Things
1.	केलू पोश मकान Keluposh House	
2.	बहुमंजिला मकान Multi Story Building	
3.	रेगिस्तान क्षेत्र के मकान Desert area House	



प्रश्न 7 चींटियाँ मिलजुलकर घर के कार्य करती हैं। चींटियों के परिवार में श्रमिक चींटी के क्या कार्य हैं 2  
(अ) अण्डे देना (ब) अण्डों की रक्षा करना। (स) घर की सुरक्षा करना (द) घर का कार्य करना ( )

Ants work cooperatively. What are the duties of a labour ant ?

- (A) To lay eggs (B) To protect the eggs  
(C) To Protect the house (D) To do domestic work ( )

प्रश्न 8 आपके आस-पास होने वाली खेती में काम आने वाले औजार के नाम लिखिए (कोई तीन) 1+1+1=3

(अ) \_\_\_\_\_ (ब) \_\_\_\_\_ (स) \_\_\_\_\_

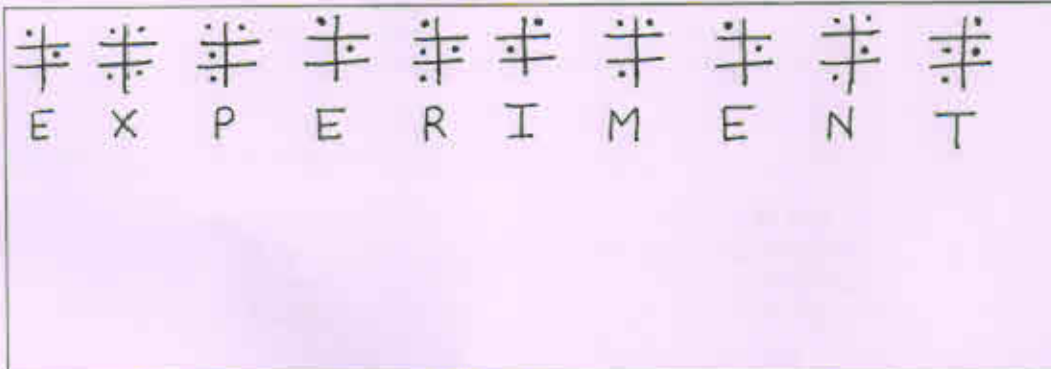
Write the names of the tools used in agriculture in your surroundings.

(A) ..... (B) ..... (C) .....

प्रश्न 9 ब्रेललिपि में EXPERIMENT को निम्नलिखित रूप से लिखा जाता है तो इसी अनुरूप PRIME को ब्रेल लिपि में लिखिए—

In Braille script the word " Experiment " is written below like wise write word " PRIME " in Braille script.

1+1+1+1+1=5



प्रश्न 10 निम्नलिखित वस्तुओं को उनके पानी में तैरने एवं डूबने के आधार पर तालिका में भरिए— 1+1+1+1+1 = 5

कील, तेल, सिक्का, स्पन्ज, माचीस की तौली, पत्थर, नाव, चॉकलेट की पन्नी, ताला ईट।

पानी में तैरने वाली वस्तु	पानी में डूबने वाली वस्तु
1.	1.
2.	2.
3.	3.
4.	4.
5.	5.

From the following list fill in table the things which float on and sink in water.

nail, oil, coin, sponge, match stick, stone, boat chocolate wrapper, lock, brick.

Things that float	Things that sink
1.	1.
2.	2.
3.	3.
4.	4.
5.	5.

प्रश्न 11 निम्नलिखित तालिका में ईंधन का नाम लिखते हुए उनके एक - एक उपयोग लिखिए

2+2+2 = 6

क्र.सं.	ईंधन का नाम	ईंधन का उपयोग
1.		
2.		
3.		

In the given table write the name of the fuel along with its use in each case.

S.No.	Name of the fuel	S.No.	Use of the fuel
1.		1.	
2.		2.	
3.		3.	

प्रश्न 12 निम्नलिखित खेल एवं उनके खिलाड़ियों के सही युग्म को छँटिए-

2

अ	तेराकी	लिम्बाराम
ब	मुक्कंबाजी	भक्ति शर्मा
स	क्रिकेट	सचिन तेंदुलकर
द	तीरुच्चाजी	पी.वी. सिन्धु

( )

Choose the correct pair of the game and its player:-

A	Swimming	Limba ram
B	Boxing	Bhakti Sharma
C	Cricket	Sachin Tendulkar
D	Archery	P.V. Sindhu

( )

प्रश्न 13 भूख कम लगना, पेट में दर्द रहना, चेहरे पर पीलापन आदि लक्षण किस रोग से संबंधित है:-

2

(अ) अतिसार (ब) पीलिया (स) पोलियो (द) कृमिरोम ( )

Loss of appetite, Stomachache, Paleness on face. etc. are the Symptoms of the disease:-

(a) Dysentery (b) Jaundice (c) Polio (d) Worm disease ( )

प्रश्न 14 बाढ़ आने की स्थिति में हमें क्या करना (.....) चाहिए-

2

(अ) घर में ही रहना चाहिए। (ब) ऊँचाई वाले स्थान पर चले जाना चाहिए।  
(स) घर से बाहर खुले में आ जाना चाहिए। (द) पेड़ के नीचे खड़े हो जाना चाहिए ( )

What should we do in the event of Flood ?

(a) Stay in the house (b) Go to the place of high attitude

(c) Come out of the house in an open area

(d) Stand under a tree

( )

प्रश्न 15 दिए गए चित्र को देखते हुए निम्नलिखित प्रश्नों के उत्तर लिखिए-

2+1+2 = 5

(अ) सिंचाई के साधनों के नाम (I) \_\_\_\_\_ (II) \_\_\_\_\_

(ब) कौनसा सिंचाई का साधन श्रेष्ठ है (I) \_\_\_\_\_ (II) \_\_\_\_\_

(स) श्रेष्ठता के दो लक्षण (I) \_\_\_\_\_ (II) \_\_\_\_\_

Observing the picture answer the following Questions ?



(a) Name of the means of irrigation.

(1) ..... (2) .....

(b) Which is the best means of irrigation .

.....

(c) Two reasons for its being the best .

(1) ..... (2) .....

प्रश्न 16 आणसी कक्षा के साथ सौ बहुत दुबला है जबकि मोनू बहुत मोटा है। आप उन दोनों को खाद्य पिरमिड के अनुसार क्या-क्या खाने की सलाह देंगे ?

$$2\frac{1}{2} + 2\frac{1}{2} = 5$$

छात्र का नाम	अधिक मात्रा में खाना	कम मात्रा में खाना
सोनी	.....	.....
मोनी	.....	.....

In your class you friend sonu is very thin while monu is very fat look at the diagram of different food elements and give advice to eat them

student name	more quantity to eat	less quantity to eat
sonu	.....	.....
monu	.....	.....



प्रश्न करना  
QUESTIONING

अंक = 5  
Marks = 5

प्रश्न 17 घोड़े पालने वाले व्यक्ति से घोड़े को रख रखाव खाने-पीने व उसके उपयोग लेने व व्यवसाय आदि से संबंधित जानकारी प्राप्त करने के लिए कौन-कौनसे प्रश्न करेंगे ? कोई पाँच प्रश्न लिखिए।

2+1+2 = 5

What questions will you ask the horse breeder to get information regarding the diet, maintenance, use and business of the house? Write any five Questions about it.

- (i) .....  
(ii) .....  
(iii) .....  
(iv) .....  
(v) .....

प्रयोग करना  
Experimenting

अंक = 5  
Marks = 5

प्रश्न 18 सप्त ऋषि तारा मण्डल का चित्र बनाकर उसके महत्व को चरणबद्ध लिखिए।

3+2 = 5

Draw a picture of the Sapt Rishi tara mandal and write the steps about its importance.

- .....  
.....  
.....  
.....  
.....

न्याय व समता के प्रति सरोकार  
Concern towards justice and equity

अंक = 8  
Marks = 8

प्रश्न 19 दो पहिया वाहन चलाते समय व्यक्ति को निम्नलिखित में से क्या ध्यान रखना चाहिए ?

2

(अ) हेलमेट पहनना चाहिए

(ब) वाहन चलाते समय मोबाइल पर बात नहीं करनी चाहिए

(स) तेज गति से वाहन नहीं चलाना चाहिए

(द) उपर्युक्त सभी

While driving the two wheeler which of the following things should a person keep it mind.

(a) Wear a helmet

(b) Don't use mobile while driving

(c) Don't drive fast

(d) All of the above.

प्रश्न 20 आपके विद्यालय में कई महापुरुषों की जयन्तियाँ उत्सव के रूप में मनाई जाती हैं। उन महापुरुषों के तीन गुणों को लिखिए जिन्हें आप अपने जीवन में अपनाना चाहते हैं।

1+1+1=3

You celebrate the anniversaries of great persons in your school. write three qualities of any of them. You want to develop in yourself.

- .....  
.....  
.....  
.....  
.....

प्रश्न 21 यात्रा करते समय सदैव टिकट लेकर ही यात्रा करनी चाहिए। निम्नांकित टिकट छायाचित्र को देखते हुए निम्नलिखित प्रश्नों के उत्तर लिखिए।

1+1+1=3



(i) यह टिकट किस शहर से किस शहर की यात्रा का है?

.....

(ii) यह यात्रा कौनसी तारीख को की गई है ?

.....

(iii) यह टिकट कितने नगद रुपये का है ?

.....

One must travel with an authentic ticket look at the picture of the ticket below.  
Answer the questions that follow.

(i) From which city to which on does this ticket depict the journey?

.....

(ii) What is the date of the Journey?

.....

(iii) How much does this ticket cost?

.....

एक दूसरे के कार्यों का सम्मान व गुणों की प्रशंसा करना <b>Honoring and appreciating each other's works and qualities</b>	अंक = 8 <b>Marks = 8</b>
--	-----------------------------

प्रश्न 22 निम्नलिखित ऐतिहासिक किलों के नाम व शहर के युग्मों में से गलत युग्म के विकल्प को कोष्ठक में लिखिए- 1+1=2

- |                       |            |
|-----------------------|------------|
| (अ) लोहागढ़ का किला   | - उदयपुर   |
| (ब) जयगढ़ का किला     | - जयपुर    |
| (स) कुम्भलगढ़ का किला | - राजसमन्द |
| (द) सोनार का किला     | - जैसलमेर  |

( )

Write the letter of the incorrect pair of the following.

- |                      |             |
|----------------------|-------------|
| (a) lohagarh fort    | - Jaipur    |
| (b) Jaigarh fort     | - Jaipur    |
| (a) Kumbhalgarh fort | - Rajsamand |
| (a) Sonar fort       | - Jaisalmer |

प्रश्न 23 आपके विद्यालय में वृक्षारोपण कार्यक्रम मनाया जाना है। आप अपने साथियों के साथ मिलकर इसकी क्या-क्या तैयारी करेंगे ? इसकी योजना बनाइए :-

6

The plantation programme is to be held in your school. Chalk out a plan of the action with your friends for that.

.....

.....

.....

.....

.....

.....

.....



प्राथमिक शिक्षा अधिगम स्तर मूल्यांकन 2018  
**Primary Education Learning Level Evaluation 2018**  
 कक्षा – 5 (नमूना मूल्यांकन पत्रक)  
**Class - V Sample Evaluation Paper**  
 विषय – गणित  
**Subject – Mathematics**

समय / Time – 2-30 HRs.

पूर्णांक / M.M.-80

नामांक / Roll No. (in figure) ..... दिनांक / Date .....

नामांक शब्दों में / Roll No. in words.....Day.....

निर्देश / Instructions :-

1. सभी प्रश्न अनिवार्य हैं।  
All Questions are Compulsory.
2. सभी प्रश्न निर्धारित दक्षता / अधिगम क्षेत्र पर आधारित हैं।  
All Question are based on prescribed competencies/learning areas.
3. प्रश्नों के अंकभार उनके सामने अंकित हैं।  
Weightage of each question is written in front of it.
4. पूरा प्रश्न पत्र 5 खण्डों में विभाजित है। सभी खंड हल करें।  
The Question paper is divided into 5 parts. Solve all the question from each section.
5. प्रश्नों के उत्तर इसी प्रश्न पत्र में प्रश्नों के नीचे उपलब्ध स्थान पर ही लिखें।  
Answer must be wittern in the space provided below the question.
6. प्रश्न पत्र के किसी भाग को न फाड़ें न मोड़ें और न अलग करें।  
Do not tear, damage of seprate any part of question paper.

हस्ताक्षर वीक्षक / Signature of Invigilator

दक्षताएं (अधिगम क्षेत्र) Competencies/Learning area	अंकभार Marks	प्राप्तांक Marks Obtained	प्राप्त ग्रेड / Grade Awarded
आकृति एवं स्थान की समझ / Understanding of the shape & space	8		
संख्या ज्ञान की समझ / Understanding of the number system	16		
सक्रियाओं की समझ Understanding of the basic mathematical operations	24		
मापन की समझ Understanding of the measurement	24		
आंकड़ों का प्रबंधन एवं पैटर्न की समझ Understanding of the data handling and pattern.	8		
<b>योग / Total</b>	80		

हस्ताक्षर परीक्षक / Signature of Invigilator

Understanding of Shape and Space Marks-8

1. रिक्त स्थानों की पूर्ति कीजिए -

2

Fill in the Blanks -

(i) समकोण से बड़ा और सरल कोण से छोटा कोण ..... कहलाता है।

The angle which is greater than a right angle and less than a straight angle is called .....

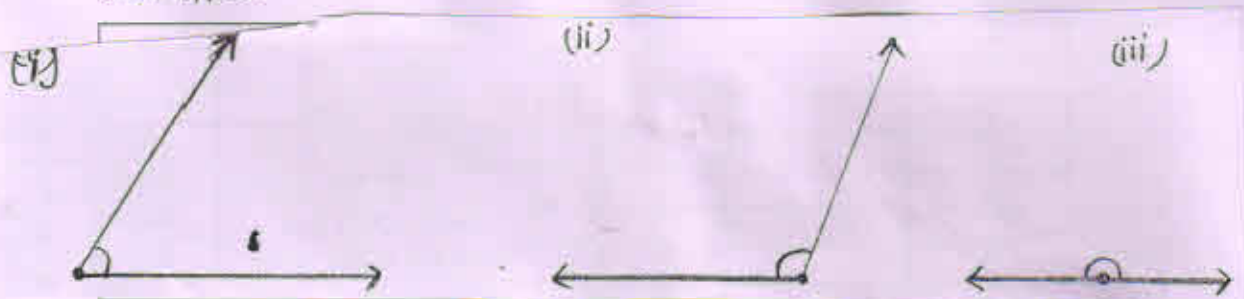
(ii) एक समकोण की माप ..... होती है।

The measure of a right angle is .....

2. चाँदे की सहायता से निम्नांकित कोणों का मापन करके लिखें।

6

Measure the following angles with the help of a protractor and mention their types:



(i) 1. नाप/Measurement..... 2. नाप/Measurement..... 3. नाप/Measurement.....

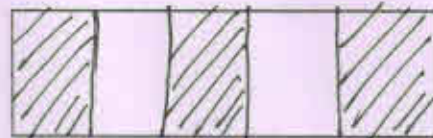
(ii) 1. Type/ प्रकार ..... 2. Type/ प्रकार ..... 3. Type/ प्रकार .....2.

Understanding of the number system Marks-16

3. दिये गये चित्र में छायांकित भाग का भिन्नरूप लिखिए।

1

The Fraction of the shaded area in the given picture is -



(A)  $\frac{2}{3}$

(B)  $\frac{3}{5}$

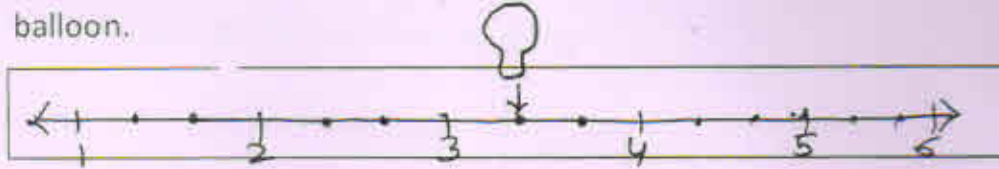
(C)  $\frac{3}{2}$

(D)  $\frac{2}{5}$

( )



4. संख्या रेखा को देखकर बताइये कि गुब्बारे में कौनसी संख्या होगी? 1  
Observe the number line and find out which fraction would be in the balloon.



- (A)  $3\frac{1}{2}$       (B)  $3\frac{1}{4}$       (C)  $3\frac{2}{4}$       (D)  $3\frac{1}{3}$

5. संख्याओं 59307, 53907, 59703 तथा 57039 को बड़े से छोटे क्रम में लिखिए। 4  
Write the following numbers in descending order. 59307, 53907, 59703 and 57039.

.....>.....>.....>.....

6. नीचे दिये गये कथनों को जांचकर सामने बॉक्स में सही या गलत लिखिए— 4  
Write true/false for the following statements in the given box against each.

- (i) संख्या 23948 में अंक 2 का स्थानीय मान 2000 है।   
The Place value of digit 2 in the number 23948 is 2000.
- (ii) अंको 1,0,3,2,4 से बनने वाली पांच अंको की सबसे छोटी संख्या   
The Smallest five digit number formed by using the digits 1,0,3,2,4 is 10234
- (iii)  $7632 > 7236$
- (iv) संख्या 20180 का विस्तारित रूप  $20000+1000+80$  है।   
The expanded form of number 20180 is  $20000+100+80$ .

7. निम्नलिखित भिन्नो की दो-दो तुल्य भिन्न लिखिए — 6  
Write two equivalent fractions for each of the following fractions.

- (i)  $\frac{1}{2} = \dots\dots\dots = \dots\dots\dots$
- (ii)  $\frac{3}{5} = \dots\dots\dots = \dots\dots\dots$
- (iii)  $\frac{4}{7} = \dots\dots\dots = \dots\dots\dots$

3. संक्रियाओं की समझ	अंक -8
<b>Understanding of the basic Mathematical Operations    Marks-8</b>	

8. भारतीय संख्याओं का जोड़ कीजिए – 2  
Find the sum of the Indian numerals –

$$\begin{array}{r} 382 \\ + 496 \\ \hline \\ \hline \end{array}$$

9. छूटे हुए अंको को बॉक्स में लिखिए। 2  
Write the missing digits in the boxes.

$$\begin{array}{r} \square 9 \\ + 2 \square \\ \hline 51 \\ \hline \end{array}$$

10. हल कीजिए। 4  
Solve the following.

(i) 
$$\begin{array}{r} 7865 \\ + 2107 \\ \hline \\ \hline \end{array}$$

(ii) 
$$\begin{array}{r} 4550 \\ - 1941 \\ \hline \\ \hline \end{array}$$

11. सूत्र निखिलम् द्वारा गुणा कीजिए – 4  
Multiply by Nikhilam Sutra  $9 \times 16 \dots\dots\dots$   
 $\dots\dots\dots$

12. हल कीजिए— 6  
Solve the following questions.

- (i) यदि एक डिब्बे में 18 किताबें पैक की जा सकती हों तो 630 किताबों को पैक करने के लिए कितने डिब्बों की आवश्यकता होगी?  
If one box has 18 books then how many boxes are needed to pack 630 books?  
.....  
.....  
.....
- (ii) एक टैंक में 375 लीटर पानी भरा जा सकता है तो ऐसे 26 टैंकों में कुल कितना पानी भरा जा सकता है?

- A Tank contains 375 litre water. How much water will be filled in such 26 tanks?

.....  
 .....  
 .....

13. निम्न के उत्तर दीजिए – (Answer the following) 6

- (i) 8 के प्रथम चार गुणज  
 The First four multiples of 8 are .....
- (ii) 12 के प्रथम चार गुणज  
 The first four multiples of 12 are .....
- (iii) 8 व 12 का सबसे छोटा समान गुणज  
 The smallest common multiple of 8 and 12 is .....

मापन की समझ (Understanding of the measurement)	अंक- 24 Marks-24
---	---------------------

14. रिक्त स्थानों की पूर्ति कीजिए – 4  
 Fill in the blanks –

- (i)  $1 \frac{1}{2}$  किलाग्राम = ..... ग्राम  
 $1 \frac{1}{2}$  Kilograms = ..... grams
- (ii) 600 ग्राम = ..... किलोग्राम  
 600 grams = ..... kilogram
- (iii) 8 मीटर = ..... सेन्टीमीटर  
 8 Meters = ..... Centimeters.
- (iv) 3000 मीटर = ..... किलोमीटर  
 3000 Meters ..... Kilometers

15. सत्य/असत्य कथनों को पहचानकर सही ( ) का निशान लगाइए – 4  
 Tick ( ) the correct option given in the bracket.

- (i) 1 घंटे में 100 मिनट होते हैं। (सत्य/असत्य)  
 One hour has 100 minutes. (True/False)
- (ii) 15 मिनट = 900 सेकण्ड (सत्य/असत्य)  
 15 Minutes = 900 Seconds (True/False)
- (iii) 3600 सेकण्ड = 1 घंटा (सत्य/असत्य)  
 3600 Seconds = 1 hour (True/False)
- (iv)  $\frac{1}{2}$  घंटे = 30 मिनट (सत्य/असत्य)  
 $\frac{1}{2}$  hour = 30 Minutes. (True/False)



16. मोहित ने राजा प्रोविजन स्टोर, जोधपुर से निम्नलिखित सामग्री खरीदी -

4

- (i) चावल 5 किलोग्राम 38 रु. प्रति किलोग्राम की दर से  
 (ii) शक्कर 3 किलोग्राम 41 रु. प्रति किलोग्राम की दर से  
 (iii) सरसों तेल 3 लीटर 84 रु. प्रति लीटर दर से

खरीदी गई उपर्युक्त सामग्री का बिल नीचे दिये गये प्रारूप में बनाकर ज्ञात कीजिए कि मोहित ने कुल कितने रुपये की सामग्री खरीदी ?

Mohit purchased the following items form "Raja Provision Store, Jodhpur" -

- (i) Rice 5 Kgs at the rate of Rs 38 per kg.  
 (ii) Sugar 3 Kgs at the rate of Rs 41 per kg.  
 (iii) Mustard Oil 3 Litres at the rate of Rs 84 per kg.

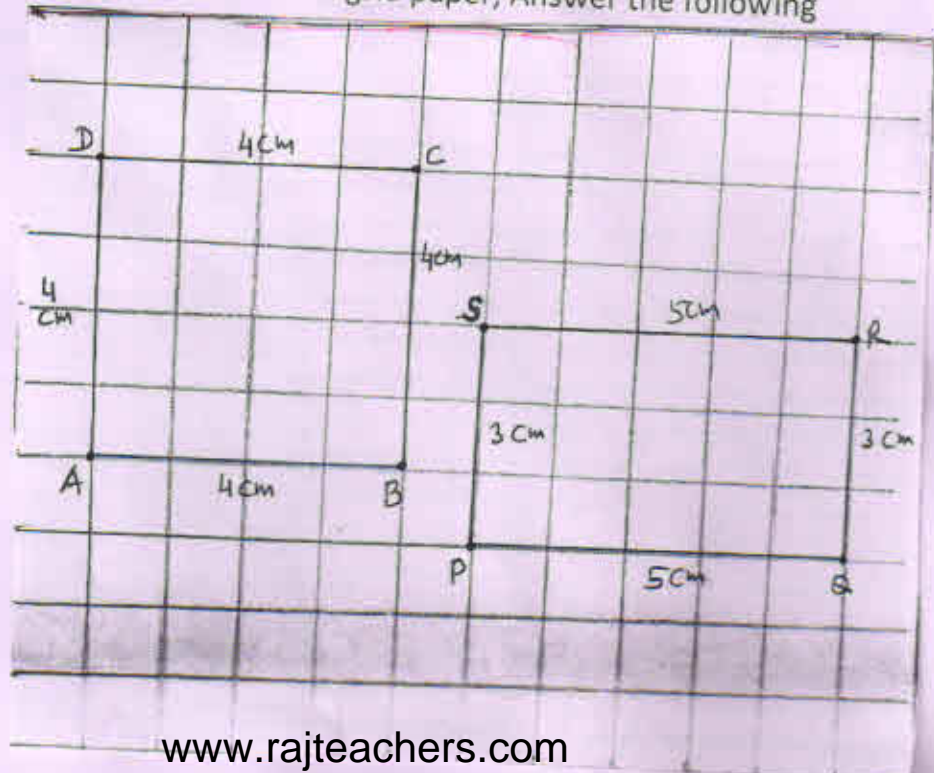
find the expenditure made by Mohit, by making the bill in the following format-

राजा प्रोविजन स्टोर, जोधपुर Raja Provision Store, Jodhpur				बिल न. .... (Bill No)
नाम / Name .....		दिनांक / Date .....		
क्र.सं. (S.No.)	ना सामग्री Name of Items	मात्रा Quantity	दर Rate	मूल्य Amount
Signature	कुल राशि (Total Amount)			

17. नीचे ग्रिड पेपर पर दी गई आकृतियों को देखकर उत्तर दीजिए -

6

Some Shapes are given below on a grid paper, Answer the following questions.



- (i) आयत PQRS का परिमाप कितना है?  
How much is the perimeter of the rectangle PQRS.  
-----  
-----
- (ii) वर्ग ABCD का परिमाप कितना है?  
How much is the perimeter of the Square ABCD.  
-----  
-----
- (iii) क्या वर्ग ABCD व आयत PQRS के परिमाप समान है?  
Are the perimeters of the square ABCD and the rectangle PQRS equal?  
-----  
-----
- (iv) वर्ग ABCD का क्षेत्रफल = .....  
The area of the square ABCD = .....
- (v) आयत PQRS का क्षेत्रफल = .....  
The area of the rectangle PQRS = .....
- (vi) दोनों आकृतियों में से किसका क्षेत्रफल अधिक है और कितना ?  
Out of two Area of which figure is more and how much of the two.  
-----  
-----

18. तीन कोल्ड ड्रिंक्स की बोटलों की धारिता क्रमशः 600 मिली लीटर, 2 लीटर व 1 लीटर 600 मिलीलीटर है।

6

निम्न प्रश्नों के उत्तर दीजिए -

The Capacities of three cold drink bottles are 600 ml, 2 litre and 1 litre 600 ml respectively.

Answer the following questions

- (i) तीनों बोटलों की कुल धारिता कितने मिलीलीटर है?  
Total capacity of all the three bottles in millilitre is.  
-----  
-----  
-----
- (ii) इनसे 200 मिली लीटर धारिता के कुल कितने गिलास पूरे भरे जा सकते हैं?  
How many glasses of 200 ml capacity can be filled in completely by the cold drink?  
-----  
-----

5. आँकड़ों का प्रबंधन एवं पैटर्न की समझ

अंक -8

Understanding of the data handling and pattern

Marks-8

19. संख्या पैटर्न 9,15,21,27, ..... में अगला पद क्या आयेगा? 1  
The Next term in number pattern 9,15,21,27,..... will be.  
(A) 30 (B) 29 (C) 33 (D) 35 ( )
20. टेली चिन्ह  $\text{||||}$   $\text{||}$  किस संख्या को दर्शाते हैं? 1  
Which number do the tally marks  $\text{||||}$   $\text{||}$  represent?  
(A) 6 (B) 7 (C) 2 (D) 4 ( )

21. नीचे दिये गये पैटर्न को पहचान कर आगे आने वाली दो आकृतियाँ बनाइये। 2  
Understand the following pattern and make the next two patterns.




22. अजमेर शहर के एक चौराहे पर यातायात पुलिस द्वारा किये गये चालानों की संख्या निम्न है - 4

In Ajmer city the number of challans made by the traffic police at a particular cross road as follows -

दिन (Days)	सोमवार Monday	मंगलवार Tuesday	बुधवार Wednesday	गुरुवार Thursday
चालानों की संख्या No. of Challans	7	5	2	6

इन आँकड़ों से नीचे दिये गये ग्राफ में स्तंभ चार्ट बनाइये।

Make a bar graph for the above data.



प्राथमिक शिक्षा अधिगम स्तर मूल्यांकन 2018  
(संस्कृत शिक्षा विद्यालयों हेतु)

कक्षा— 5

विषय— संस्कृत

समय— 2:30 घंटे

पूर्णांक— 80 अंक

नामांक (अंको में).....

दिनांक .....

नामांक (शब्दों में).....

वार .....

विद्यार्थी हेतु सामान्य निर्देशः—

1. सभी प्रश्न अनिवार्य हैं।
2. सर्वप्रथम अपने नामांक, दिनांक आदि की पूर्तियाँ करें।
3. प्रत्येक प्रश्न निर्धारित अधिगम क्षेत्र के अनुसार है।
4. प्रत्येक प्रश्न का उत्तर प्रश्न-पत्र में दिये गये निर्धारित स्थान पर ही लिखें।
5. सभी प्रश्नों के अंक उनके सामने अंकित हैं।

वीक्षक के हस्ताक्षर

Signature of Invigilator

ग्रेड सूची Grade List

दक्षताएँ (अधिगम क्षेत्र) Competencies/Learning Area	अंकभार Marks	प्राप्तांक Marks Obtained	प्राप्त ग्रेड Grade Awarded
पढ़ना, पढ़कर समझना और लिखना (गद्य)	24		
पढ़ना, पढ़कर समझना और लिखना (पद्य)	18		
व्यावहारिक व्याकरण	31		
सृजनात्मक अभिव्यक्ति	7		
कुल योग	80		

परीक्षक के हस्ताक्षर

Signature of Examiner

P.T.O.



निर्देश:- उचित उत्तरस्य क्रमाक्षरं कोष्ठके लिखतु:-

प्र.1 रामायणम् महाकाव्यस्य रचयिता अस्ति-

- (अ) वाल्मीकिः (ब) वेदव्यास (स) कालिदासः (द) माघः ( ) 1

प्र.2 हिमालयः भारतस्य भागे स्थितः अस्ति:-

- (अ) दक्षिण भागे (ब) उत्तर भागे (स) पूर्व भागे (द) पश्चिम भागे ( ) 1

प्र.3 सूर्योदये कूजन्ति-

- (अ) खगाः (ब) मनुष्याः (स) पशवः (द) वानराः ( ) 1

प्र.4 सुमेलनं कुर्वन्तु-

- |                          |   |
|--------------------------|---|
| (क) एतस्यां भारत भूम्यां | (अ) सुप्रसिद्धाः वीराः आसन् ।           |
| (ख) उत्तरदिशि हिमालयः    | (ब) चरणौ प्रक्षालयति ।                  |
| (ग) दक्षिणादिशि सागरः    | (स) सुरक्षा- भित्तिरूपेण स्थितः अस्ति । |
| (घ) महाभारतकाले पाण्डवाः | (द) अनेके वीराः अभवन् ।                 |

प्र.5 अधोलिखित प्रश्नानां उत्तराणि निर्धारित स्थाने लिखन्तु-

4

- (क) हिमगिरेः काः प्रमुखाः नद्यः प्रभवन्ति ?

- (ख) महाराणाप्रतापस्य अश्वस्य नाम किम् आसीत् ?

- (ग) अस्माकं पवित्रतमा नदी का अस्ति ?

- (घ) सूर्यः कुत्र अस्तं भवति ?

प्र.6 सत्य कथनानां समक्षे 'आम्' इति असत्य कथनानां समक्षे न इति लिखतु-

4

- |   |         |
|---|---------|
| (क) सूर्यः पूर्वदिशि उदेति ।                                  | (.....) |
| (ख) प्रथमा-तिथौ दुर्गादेव्याः शैलपुत्री स्वरूपस्य पूजा भवति । | (.....) |
| (ग) लतायाः शिरोवेदना न आसीत् ।                                | (.....) |
| (घ) माक्षिकाः रोगाणां कारणानि भवन्ति ।                        | (.....) |



(अ) शिरोवेदना	विश्वप्रसिद्धम्
(ब) रूग्णा	प्रक्षालनं करोति
(स) प्रक्षालयति	मस्तक पीडा
(द) विश्वविश्रुतम्	रोगग्रस्ता

प्र.8 निम्नलिखित गद्यांशं पठित्वा प्रश्नानां उत्तराणि लिखन्तु।

अस्माकं देशस्य नाम भारतवर्षम् अस्ति। भारतस्य उत्तरदिशायां प्रसिद्धः हिमालयपर्वतः स्थितः अस्ति। हिमस्य आधिक्यात् अस्य नाम हिमगिरिः अस्ति। एषः गिरिः सर्वेषां गिरीणाम् इन्द्रः – गिरीन्द्रः अर्थात् पर्वतराजः अस्ति। एतस्मात् गिरेः एव गङ्गा—यमुना— ब्रह्मपुत्रादयः नद्यः प्रभवन्ति। कश्मीरः, हिमाचल—प्रदेशः इत्यादयः प्रदेशाः हिमालये सन्ति।

(क) अस्माकं देशस्य नाम किम् अस्ति ?	1
.....	
(ख) कस्य आधिक्यात् अस्य नाम हिमगिरिः ?	1
.....	
(ग) एतस्मात् गिरेः एव काः नद्याः प्रभवन्ति ?	2
.....	
(घ) के प्रदेशाः हिमालये सन्ति ?	2
.....	
(ङ) गिरीन्द्रः अर्थात् ..... अस्ति।	1
.....	

निर्देश- उचित उत्तरस्य क्रमाक्षरं कोष्ठके लिखतु-

प्र.9 'सूक्तयः' इति पाठानुसारेण श्रीः प्रतिवसति-

(अ) अज्ञाने (ब) साहसे (स) तमे (द) नियमें ( ) 1

प्र.10 मञ्जुषात् उचित पदं चित्वा वाक्यपूर्तिं कुरुतः।

(मुक्ति, भुक्ति)

(क) .....साधकं मुक्तिसाधकं।

(ख) भुक्ति ..... साधकं भवतु भारतम्।

प्र.11 पाठ्य पुस्तकात् प्रश्न पत्रातिरिक्त दौ श्लोकौ लिखन्तुः-

5

(क) .....

(ख) .....

प्र.12 निम्न लिखित प्रश्नानां उत्तराणि रिक्त स्थाने लिखन्तु-

4

(क) वायु विहारं कुत्र करवाम् ?

(ख) कर्मसु कौशलं किम् अस्ति ?

(ग) कार्यकाले समुत्पन्ने कीदृशी विद्या कार्यं न करोति ?

(घ) किं यच्छाम ?

प्र.13 अधोलिखित श्लोकस्य हिन्दी भाषाया अर्थं लिखन्तु

6

अभिवादनशीलस्य, नित्यं वृद्धोपसेविनः।

चत्वारि तस्य वर्धन्ते, आयुर्विद्यायशोबलम्।।

अथवा

अयं निजः परोवेति, गणना लघुचेतसाम्।

उदारचरितानां, तु वसुधैव कुटुम्बकम् ।।

अर्थः— .....

.....

.....

व्यावहारिक व्याकरण अंक-31

निर्देशः— उचित उत्तरस्य क्रमाक्षरं कोष्ठके लिखन्तु—

प्र.14 माहेश्वरसूत्रेषु प्रथमं सूत्रम् अस्ति—

(अ) ऋ लृ क् (ब) अ इ उ ण् (स) ए ओ ङ् (द) ऐ औ च् ( ) 1

प्र.15 रिक्तस्थानानि पूरयन्तु— 4

(अ) अ इ .....ण्। (ब) ऐ ..... च्।  
(स) क.....य्। (द) झ ..... ज्ञ्।

प्र.16 आकारांतस्त्रीलिङ्गशब्दान् अभिज्ञाय पृथक् कुर्वन्तु— 3

(बालिका, बालक, माता, राम, ललिता, वन)

.....

.....

प्र.17 अव्ययपदं चित्वा रिक्तस्थानानि पूरयन्तु— 3

(एव, यदा, तर्हि, तु, यावत्, इतः)

(क) ..... सूर्योदय भवति तदा कमलानि विकसन्ति ।

(ख) भवती ..... जानाति ।

(ग) मम् स्वास्थ्यं ..... समीचीनं नास्ति ।

(घ) यदि औषधं न खादिष्यसि ..... ज्वरं तीव्रं भविष्यति ।

(ङ) ..... जलं न मिलति तावत् तृष्णा भवति ।

(च) रमा ..... विद्यालयं गच्छति ।

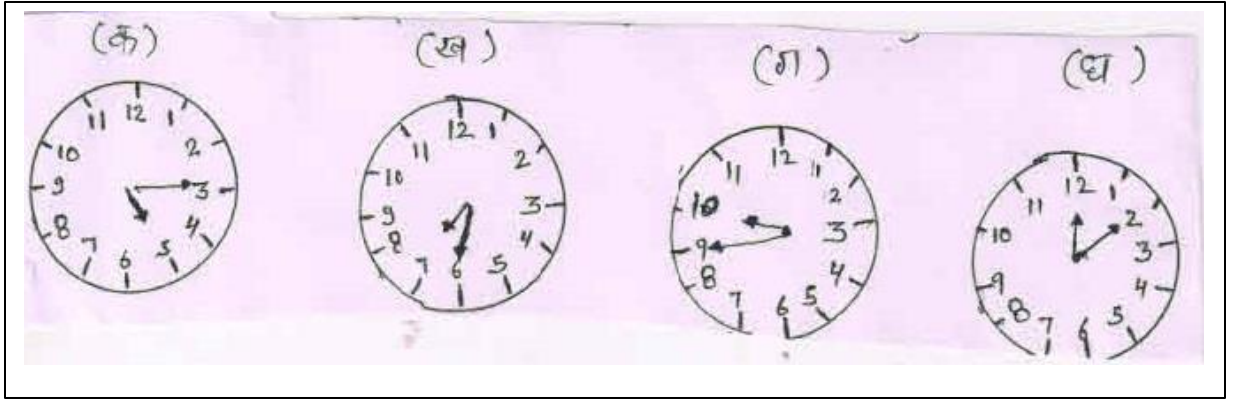
प्र.18 अधोलिखित संख्याशब्दान् अंकेषु लिखन्तु

5

- (क) नव .....  
.....  
(ख) षोडश .....  
.....  
(ग) एकोनविंशति: .....  
.....  
(घ) नवविंशति: .....  
.....  
(य) पंचविंशति: .....  
.....

प्र.19 निम्नांकित चित्रं दृष्ट्वा समयं संस्कृत भाषायां लिखन्तु—

4



प्र.20 कोष्ठके प्रदत्त निर्देशानुसारेण रिक्त स्थानानि पूरयन्तु—

5

- (क) गंगा .....प्रभवति (हिमालयः, पु. पंचमी, एक व.)  
(ख) शिष्यः ..... विद्यां प्राप्नोति। (गुरुः, पु. पंचमी एक व.)  
(ग) ..... नमः। (शिव चतुर्थी वि. एक व.)  
(घ) मकर ..... वसति। (जल- सप्तमी वि. एक व.)  
(ङ) .....अभितः वृक्षाः सन्ति। (ग्राम द्वितीया एक व.)

प्र. 21 (क) विलोम पदानि योजयन्तु—

- (क) भयम् ..... ग्रहीतुम्  
(ख) पवित्रता ..... अपवित्रता  
(ग) दातुम् ..... निर्भयम्

(ख) अधोलिखितान् एक वचन शब्दान् बहुवचन शब्दैः सह मेलयन्तु

3

- (क) फलम् ..... फलै  
(ख) फलेन ..... फलेभ्यः  
(ग) फलाय ..... फलानि



प्राथमिक शिक्षा अधिगम स्तर मूल्यांकन 2018  
Primary Education Learning Level Evaluation 2018

नमूना मूल्यांकन पत्रक  
Sample Question Paper

कक्षा – 5

Class – 5

विषय – सिन्धी

Subject – Shidhi

समय / Time – 02.30 Hrs.

पूर्णांक / M.M. – 80

नामांक / Roll No (अंकों में) .....दिनांक / Date.....

नामांक (शब्दों में) / Roll No. In Words .....वार / Day.....

निर्देश:- शार्गिदन लाइ ध्यान डियण जहिडियुँ ग्रल्लियुँ

1. सभेई सुवाल करणु जरूरी आहिनि – मार्कू साम्हूँ डिनल आहिनि!
2. हरहिक सुवाल जो जवाबु पेपर में साफ- साफ अखरनि में लिखों!
3. शार्गिदु सभ खां पहिरीं रोल नं., तारीख ऐं वार लिखे!
4. सभेई सुवाल तय कयल अधिगम क्षेत्र जे अनुसार आहिनि!

क्र.सं.	दक्षताएं (अधिगम क्षेत्र)	अंक भार	प्राप्तांक	प्राप्त ग्रेड
1.	पढणु, पढी करे समुझणु ऐ लिखणु नसुर	24		
2.	पढणु, पढी करे समुझणु ऐं लिखणु नज़्म	18		
3.	व्याकरण	21		
4.	सृजनात्मक अभिव्यक्ति	10		
5.	परिवेशीय सजगता	7		
6.	<b>योग Total</b>	<b>80</b>		

हस्ताक्षर परीक्षक / Singnature of Examiner

निर्देश:- सही जवाब डिंगियुनि में लिखों-

सुवाल 1. डाक्टर होमी भाभा हो:- (1)  
(अ) डाक्टर (ब) साइन्स दान (स) इन्जीनियर (द) वकील ( )

सुवाल 2. बहादुर कड्हीं बि .....खां न डिजन्दो आहे! (1)  
(अ) बन्दूक जी गोली (ब) कुर्बानी  
(स) मौत (द) लड़ाई ( )

सुवाल 3. इलितिजा लफ़ज़ जी माना आहे (1)  
(अ) धर्मु (ब) ईश्वर (स) प्रार्थना (द) बोल ( )

सुवाल 4. मुन्दू थीन्दियूं आहिनि.....! (1)  
(अ) चारि (ब) पंज (स) टे (द) ब् ( )

सुवाल 5. "खराब" जो ज़िदु आहे! (1)  
(अ) मिठो (ब) किनो (स) सुठो (द) बुरो ( )

सुवाल 6. खाल भरियों :- (1+1=2)  
(i) कूडु आहे..... जी हिक किशती  
(ii) विवेक ..... इम्तिहान वास्ते पढाई करे रहियो हो

सुवाल 7. खाल भरियों :- (1+1=2)  
(i) बुलबुल गाए ..... मल्हार  
(ii) हरको इन्सानु ..... जो खुवाहिश मन्दु हून्दो आहे!

सुवाल 8. अदद वाहिद मां अदद जमऊ ठाहियो:-  $(\frac{1}{2} + \frac{1}{2} + \frac{1}{2} + \frac{1}{2} = 2)$   
(i) राणी .....  
(ii) घोड़ो .....  
(iii) खट .....  
(iv) दबो .....

सुवाल 9. जमीर जी परिभाषा लिखो:- (2)

.....  
.....  
.....

सुवाल 10. कम्प्यूटर जिन्दगीअ में कहिड़ो फेरो आणे सघन्दा ? (4)

.....

.....  
.....  
सुवाल 11. डाक्टर भाभा जो मौतु कड्हिं ऐं किथे थियो ? (4)  
.....  
.....

.....  
.....  
सुवाल 12. सागीअ माना वारनि लपज़नि जो मिलान करियो (1 + 1 + 1 + 1 = 4)

- |             |          |
|-------------|----------|
| i हारी      | i मशहूर  |
| ii हाकारो   | ii दुखु  |
| iii गुनहगार | iii डोही |
| iv ईजाउ     | iv किसान |

सुवाल 13. हेठि लिखियल टुकड़े खे पढ़ी सुवालनि जा जवाब लिखो? (1 + 1 + 1 + 1 = 4)

कारसेका जी राजधानीअ में हिक वडो बाग हो! जंहि में नेपोलियन ऐं संदसि भेण इलाइजा राँदि करे रहिया हुआ! इलाइजा जी बेपरवाहीअ सबब उते हिक हारीअ जी धीअ जे जेतूननि जी टोकिरी किरी पेई ऐं केतिरा जेतून फिसी पिया! छोकिरीअ खे रूअन्दो डिस्सी इलाइजा चयो, " भाऊ हल त भजी हलूं। जीअं बियनि खे खबर न पइजी वजें।"

- I. मथिएं टुकड़े जो सिरा लिखो.....
- II. इलाइजा केर हुई ? .....
- III. नेपोलियन ऐं संदसि भेण बाग में छा करे रहिया हुआ?  
.....
- IV. जेतूननि जी टोकिरी कहिंजी हुई?  
.....  
.....

सुवाल 14. हेठियें नज़म जी माना समुझाए लिखों! (4)

माउ पीउ खे मानु डिए जो,  
घर पहिंजे जो शानु थिए जो,  
लिखण पढ़ण में ध्यानु धरे जो,  
झगिड़ो कहिसां कोन करे जो  
करे उन्हीअ खे हर को प्यार  
आहे उहोई डाहों बारू!

.....  
.....  
.....  
.....



सुवाल 15. टपाल खाते, आचार्य कृपलाणीअ जी कदुरशनासी कहिड़ीअ रीत कई आहे? (3)

.....  
.....  
.....

सुवाल 16. आज़ादीअ जो ड़ींहू ऐं लोकशाहीअ जो ड़ींहू कहिड़ियुनि तारीखुनि ते थीन्दा आहिनि? (3)

.....  
.....  
.....

सुवाल 17. जापानी बार कहिड़ी पोशाक पहिरींदा आहिनि? (3)

.....  
.....  
.....

सुवाल 18. राम ऐं रहीम कहिड़ा हुनर शहर मां सिखी आया? (3)

.....  
.....  
.....

सुवाल 19. हेठियनिं लफ़ज़नि खे सिटुनि में कमू आणियो! (1 + 1 + 1 + 1 + 1 = 5)

बहादुर .....  
पुजारी .....  
गुलामु .....  
बन्दोबस्तु .....  
आधात .....

सुवाल 20. हेठि ड़िनल सिटुनि में सही लाइ(√) ऐं गलत लाइ (×) निशानु लगायो!

(1 + 1 + 1 + 1 + 1 = 5)

- (i) पूजारीअ जख्मी वापारीअ जी मदद कई ( )  
(ii) राकेट मां बारनि खे सजो आसमानु अछो नज़र थे आयो ( )  
(iii) हरको डाहे बार खे प्यार कन्दो आहे ( )  
(iv) कम्प्यूटर जिन्दगीअ में फेरो आन्दो आहे ( )  
(v) रामु बियो दफो बि इम्तिहानु में नापासु थियो ( )

सुवाल 21. कहिं बि हिक ते आखाणी लिखो:- (10)

(i) काँउ ऐं लोमड़ी (ii) शेर ऐं कुओं (iii) बधीअ में बलु

.....  
.....  
.....  
.....  
.....  
.....

सुवाल 22. हेटि डिनल मां कहिं बि हिक ते मजिमून लिखों :- (10)

(i) होली

(ii) मुहिंजो स्कूल

(iii) गांइ

.....

.....

.....

.....

.....

.....

.....

.....

.....

.....

.....

.....

.....

.....

.....

सुवाल 23. पहिंजे स्कूल जे हैड मास्तर खे हिक दरखास्त लिखो जहिं में बीमार थियण  
करे टिनि डींहनिजी मोकल वास्ते जाणायल हुजे! (5)

.....

.....

.....

.....

.....

.....

.....

.....

.....

.....

.....

[9] 9

# प्राथमिक शिक्षा अधिगम स्तर मूल्यांकन 2018

कक्षा - 5  
विषय - उर्दू

पूर्णांक - 80 अंक

समय - 2.30 घंटे

नामांक (अंकों में)..... दिनांक .....

नामांक (शब्दों में)..... वार .....

विद्यार्थी हेतु सामान्य निर्देश :-

1. विद्यार्थी सर्वप्रथम अपने नामांक, दिनांक आदि की पूर्तियाँ करें।
2. प्रत्येक प्रश्न निर्धारित अधिगम क्षेत्र के अनुसार है।
3. सभी प्रश्न अनिवार्य हैं।
4. प्रत्येक प्रश्न का उत्तर प्रश्न-पत्र में दिये गये निर्धारित स्थान पर ही लिखें।
5. जिन प्रश्नों के आन्तरिक खण्ड हैं उन सभी के उत्तर एक साथ लिखें।
6. सभी प्रश्नों के अंक उनके सामने अंकित हैं।

वीक्षक के हस्ताक्षर

Signature of Invigilator

## ग्रेड सूची Grade List

दक्षताएं (अधिगम क्षेत्र) Competencies	अंकभार Marks	प्राप्तांक Marks Obtained	प्राप्त ग्रेड Grade Awarded
पढ़ना, पढ़कर समझना और लिखना (गद्य)	22		
पढ़ना, पढ़कर समझना और लिखना (पद्य)	13		
व्यावहारिक व्याकरण	13		
सृजनात्मक अभिव्यक्ति	24		
परिवेशीय सजगता	08		
कुल योग	80		

परीक्षक के हस्ताक्षर

Signature of Examiner

P006

1

P.T.O.

نوٹ :- سوالوں کے جوابات دی گئی جگہوں پر ہی لکھیں۔

پڑھنا، پڑھ کر سمجھنا اور لکھنا۔ [نثر]

1.

سوال 1 مُتی کے بھائی کا نام ہے۔

[ الف ] عامر (ب) گڈو (ج) حامد (د) السلام [

1.

سوال نمبر 2 - دیے گئے لفظوں سے خالی جگہ کو بھریے۔

( خیال ، پانی ، اوپر سے نیچے )

میری بھی گزر بسر۔۔۔ کے بغیر ناممکن ہے۔

1

سوال نمبر 3 - جیسے ہی اس نے منہ کھولا۔۔۔۔۔ کی طرف آ رہا۔

1

سوال نمبر 4 - کچھوا بھی ان کی جدائی کے۔۔۔۔۔ سے رو پڑا۔

3

سوال نمبر 5 - عامر نے جسی ڈراہے میں حصّہ لیا اس کا موضوع کیا تھا؟

-----

-----

3

سوال نمبر 6 - لڑکے نے خان صاحب کی مدد کسی طرح کی؟

-----

-----

6

سوال نمبر 7 - خوش خط لکھئے۔

• گرم

• تولیا

• سنت

• جلد

(2)  
سوال نمبر 8 نیچے دی ہوئی تصویروں کو ان کے نام کے ساتھ ملائیے (6)

تصویب



نام

بہادر شاہ ظفر

سہا شہ چندر بوس

جمہا نسی کی رانی

سانسیا ٹوپے

[3]

پڑھنا، پڑھ کر سمجھنا اور لکھنا۔ [نظم]

1 سوال نمبر 9۔ محبوب راہی شاعر کی نظم کا نام ہے۔

[ (الف) ٹوٹیا لوہا، (ب) میری پتنگ (ج) ترانہ ہندی (د) کتابیں ]

1 سوال نمبر 10۔ ہمارے ملک کا نام ہے۔

( (الف) جاپان (ب) چین (ج) بھارت (د) امریکہ )

3 سوال نمبر 11۔ دنیا میں ترقی کسی طرح کی جاسکتی ہے؟

-----  
-----  
-----

4 سوال نمبر 12۔ نیچے لکھے ہوئے لفظوں کا املا درست کیجئے۔

• فول -----  
• کلم -----  
• گرز -----  
• پاق -----



(4)

سوال 13۔ نیچے لکھے نظم کے مصرعوں کو پڑھ کر سوالوں کے جواب لکھیے۔

(4)

اے لو وہ بدلی آگئیں  
اور چاندنی پر چھا گئیں  
باہر نکلنے کے لیے  
پھر آئے پھر کترا گئیں  
گھبرا رہی ہے چاندنی!

(1) یہ مصرعے کسی نظم سے لیے گئے ہیں؟

جواب

(2) اس نظم کے شاعر کا کیا نام ہے؟

جواب

(3) چاندنی پر کون چھا گیا؟

جواب

(4) کون گھبرا رہی ہے؟

جواب

علی قوا عد

سوال 14۔ کسی شخص، جگہ یا چیز کے نام کو کہتے ہیں۔

(الف) ضمیر (ب) فعل (ج) اسم (د) صفت

سوال نمبر 15۔ لفظ "غریب" کا معنی ہے۔

(الف) امیر (ب) غریب (ج) پردیسی (د) سبھی

3 سوال نمبر 16۔ صفت کسے کہتے ہیں۔ مثال بھی دیجیے۔

جواب۔

-----

-----

-----

4. سوال نمبر 17۔ نیچے دیے ہوئے لفظوں کے متضاد لکھئے۔

1۔ جنگ

2۔ دوست

3۔ انسان

4۔ خاص

4. سوال نمبر 18۔ نیچے دیے ہوئے لفظوں کو جملوں میں استعمال کیجیے۔

1۔ تارا

2۔ سفر

3۔ اسکول

4۔ جھوٹ



## تخلیقی اظہار

سوال نمبر ۱۹۔ عید - دیوالی - سندیدہ اُستاد میں (۸) سے کسی ایک پر مضمون لکھیے۔

---



---



---



---



---



---



---



---

سوال نمبر ۲۰۔ صحیح بیان کے سامنے [ما] اور غلط بیان کے سامنے (x) کا نشان لگائیے۔

1. ہمارا ملک گنگا جمنی تہذیب کا نمونہ ہے ( )
2. گرونانک کو جو پیسے ملتے تھے، انہیں اپنی ذات پر خرچ کر دیتے تھے۔ ( )
3. گرونانک کا دل دنیا داری میں نہیں لگتا تھا۔ ( )
4. گرونانک نے گہر بار جھوڑ کر فقیری اختیار کر لی۔ ( )

سوال نمبر 21 - نیچے دیے گئے اقتباس کو پڑھ کر سوالوں کے جواب دیجئے۔

کھانا کھانے، ورزش یا جسمانی محنت کرنے کے فوراً بعد نہانا ٹھیک نہیں ہے۔ صبح سویرے نہانا سب سے اچھا ہے۔ بدن کی مالش بھی جلد کے لیے مفید ہے۔ اس سے دورانِ خون بھی ٹھیک رہتا ہے اور جلد بھی نرم رہتی ہے۔

(1) یہ اقتباسی کس سبق سے لیا گیا ہے؟

جواب \_\_\_\_\_

(2) نہانا کب ٹھیک نہیں ہے؟

جواب \_\_\_\_\_

(3) بدن کی مالش کس کے لئے مفید ہے؟

جواب \_\_\_\_\_

سوال نمبر 22 - بہن کی شادی میں باہر جانے کے لئے اپنے اسکول کے ہیڈ ماسٹر صاحب کو دو دن کی چُھٹی کے لئے ایک درخواست لکھیے۔

\_\_\_\_\_

\_\_\_\_\_

\_\_\_\_\_

\_\_\_\_\_

\_\_\_\_\_

\_\_\_\_\_

## ماحولیاتی احتیاط

سوال 23 - سڑک پار کرتے وقت کن کن باتوں کا خیال رکھنا ضروری ہے -

---

---

---

---

---

---

---

---

[9] پراথমیک شیکھا اڈیگم رتر مویاکن 2018

جواب نامہ

اردو

کل نمبر: 80

وقت: 2 گھنٹے 30 منٹ

درجہ: 5

سوال نمبر	جوابات	صفحہ نمبر	مقرر نمبر
1.	(ب) سبق - لڑکا لڑکی ایک سمان	33	1.
2.	(پانی) سبق نادان کچھوا	13	1.
3.	(اوپر سے نیچے) نادان کچھوا	13	1.
4.	(خیال) نادان کچھوا	13	1.
5.	پہلی جنگ آزادی کا سپہ سالار	124	3
6.	ٹوپی بیچ کر اس کی مدد کی۔	47	3
7.	خوش خط لکھیں	-	6
8.	ملان کریں	129	6
9.	(ب) میری پتنگ	57	1
10.	(ج) بھارت - سبق نرائے ہندی	25	1.
11.	سبق 10 فونہالو۔ محنت سے	85	3
12.	املا درست کریں	-	4
13.	(1) دریا کنارے چاندنی (2) اختر شیرانی (3) بدلی (4) چاندنی	132	4



سوال نمبر	جوابات	صفحہ نمبر	انقرہ نمبر
14	(ج) اسم	60	1
(15)	(ج) پردیس	27	1.
(16)	ایسے الفاظ جن سے کسی اسم یا ضمیر کی کوئی خصوصیت یعنی اچھال یا بُرائی ظاہر ہوتی ہو۔ انہیں صفت کہتے ہیں۔	52	3
17	(۱) امن (۲) دشمن (۳) حیوان (۴) عام	172	4
18	لفظوں کو جملوں میں استعمال کریں	-	4
19.	کسی ایک عنوان پر مضمون لکھے	-	8
20	(۱) ✓ (۲) X (۳) ✓ (۴) ✓	92	4
21	(۱) صحت اور صفائی (۲) کھانا کھانے، ورزش، جسمانی محنت کے فوراً بعد (۳) جلد کے لئے	66	6
22	درخواست لکھے۔	-	6
23	سڑک پار کرتے وقت باتوں کا خیال	-	8