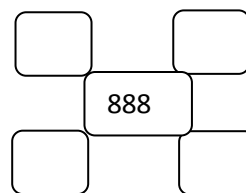

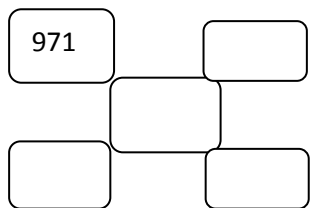


Q.1 खिड़कियों में लिखी संख्याओं के अनुसार रिक्त स्थान भरिए ।



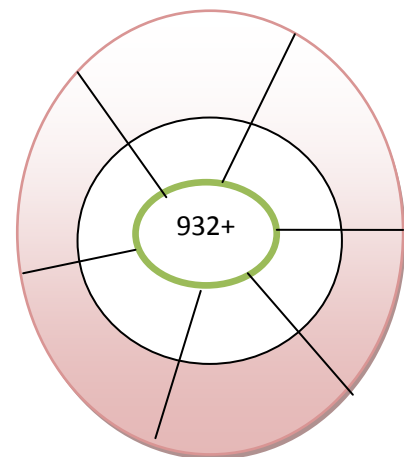
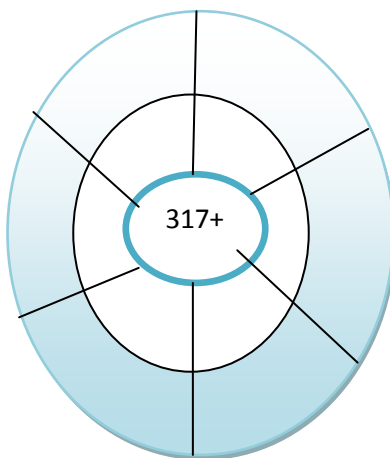
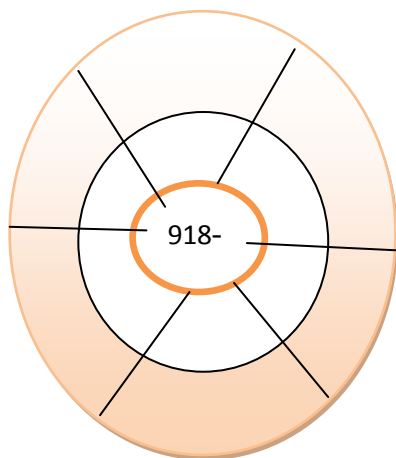
Q.2 उपयुक्त चिन्हों(<, > तथा =)को रिक्त स्थान में भरिए ।

(i)  $400 \dots 398 \dots 389$

(ii)  $749 \dots 794 \dots 497$

(iii)  $687 \dots 786 \dots 867$

Q.3 हल करो



Q.4 रिक्त स्थान भरिए ।

(i)  $1000 - 999 = \dots$

(ii)  $750 + 550 = \dots$

(iii)  $999 - \dots = 499$

Q.5 देवनागरी के अंकों का योग करो ।

(i)  $७६ + ३५ + १३ = \dots$

(ii)  $५६ + २६ + २८ = \dots$

(iii)  $८२ + ६५ + ७३ = \dots$

Q.6 देवनागरी के अंकों का घटाव करो ।

(i) ६७ - ४३ = .....

(ii) ५६ - २३ = .....

(iii) ४२५ - २६४ = .....

Q.7 निम्न के परममित्र अंक लिखिए ।

(i) 3 = .....

(ii) 6 = .....

(iii) 5 = .....

Q.8 निम्न संख्याओं को एकाधिकेन पूर्ण कर लिखिए ।

क्रम संख्या	संख्या	एकाधिकेन पूर्ण	नयी संख्या
1	16 में अंक 6	•16	26
2	325 में अंक 5		
3	83 में अंक 8		
4	148 में अंक 4		

Q.9 निम्न संख्याओं का एकाधिकेन पूर्ण विधि द्वारा योग करो ।

(i) 28 + 15 = .....

(ii) 36 + 28 = .....

(iii) 76 + 68 = .....

Q.10 निम्न संख्याओं का एक न्यून पूर्ण विधि द्वारा घटाव करो ।

(i) 43 - 17 = .....

(ii) 84 - 57 = .....

(iii) 56 - 39 = .....

Teacher's comments:-