

प्रथम योगात्मक आकलन 2016 -17

विषय: गणित

कक्षा: 2

समय: 1:00घण्टा

नाम विद्यालय:

रोल नम्बर.....

नाम विद्यार्थी:

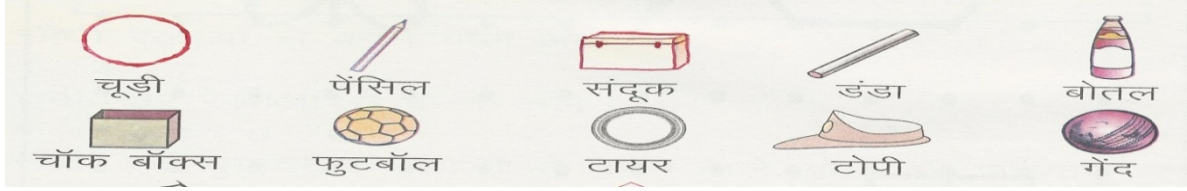
दिनांक / /

नोट:सभी प्रश्नों के उत्तर लिखिए। सफाई का विशेष ध्यान रखें।

1.वस्तु में कैसा घेरा है? पहचान कर मिलान कीजिए।




2. दिए गए चित्र में वस्तु जैसी दिखाई देती है, वस्तु का नाम सारणी में भरिए—

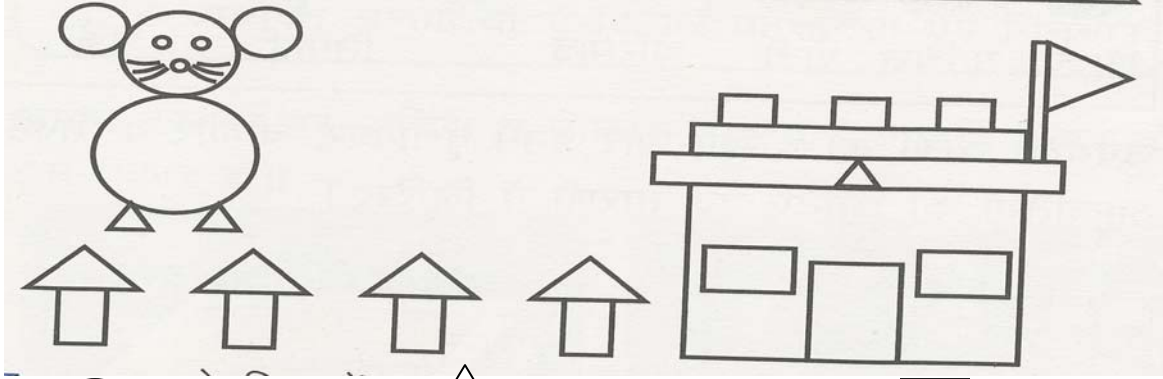


वस्तुएँ	आकृतियों के नाम
गेंद जैसी	
संदूक जैसी	
ड्रम जैसी	

3. बराबर संख्या वाले समूहों को रेखा खींच कर मिलाइए -



4. चित्र में वृत्ताकार(गोला) में लाल रंग, तिकोने में पीला व चौकोर में हरा रंग भरिए एवं गिनकर लिखिए—



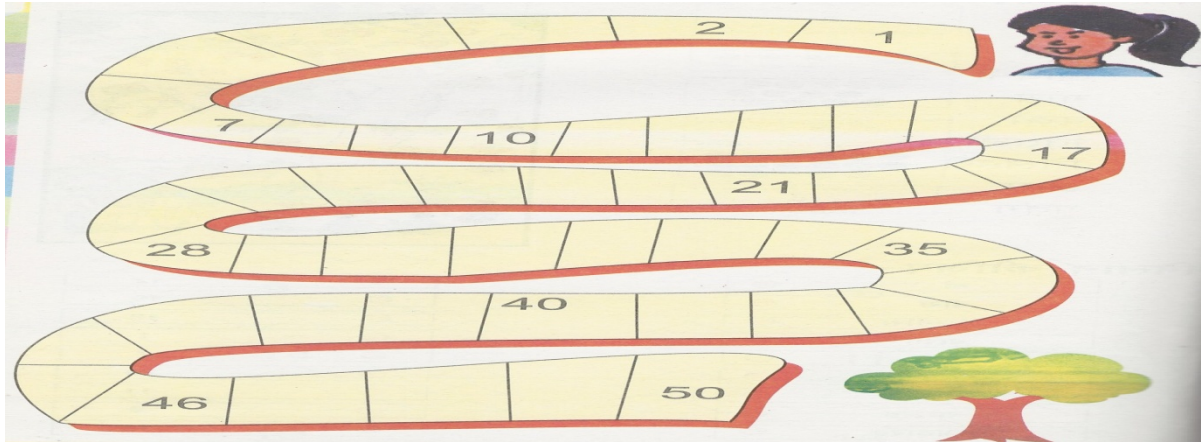
(क) ○ (ख) △ (ग) □

5. मिलान कीजिए—

10	60	30	90	50	20	70	40	80	100
----	----	----	----	----	----	----	----	----	-----

नब्बे	तीस	साठ	बीस पचास	दस	अस्सी	सौ	सत्तर	चालीस
-------	-----	-----	----------	----	-------	----	-------	-------

6. खाली स्थानों में 1 से 50 तक लिखिए।



आकलन क्षेत्र	संख्या ज्ञान की समझ	आकृति एवं स्थान की समझ
समूह निर्माण हेतु ग्रेड		
अधिगम प्राप्ति का स्तर		
शिक्षक प्रतिपुष्टि.....		
.....		
शिक्षक का नाम एवं हस्ताक्षर		दिनांक / /

अधिगम प्राप्ति के स्तर - 1.प्रारंभिक

2.विकासशील

3.प्रगति

4.प्रवीणता