



सत्रारम्भ : आधार रेखा आकलन/पदस्थापन

सत्र : 2017-18

कक्षा :- 4

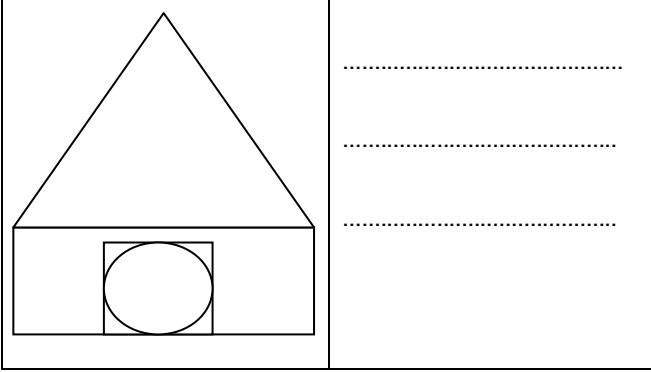
विषय :- गणित

दिनांक :-

विद्यार्थी का नाम :-

रोल नं. :-

1. नीचे दिए गए चित्र में आकृतियों को पहचानकर



संख्या ज्ञान की समझ

2. संख्या चार्ट को पूरा कीजिए-



3. पहाड़े लिखिए-

4. अंको को शब्दों लिखों-

(i) 540 =

(ii) 408 =

(iii) 369 =

5. बड़ी संख्या पर घेरा खींचिए-

115,118

79,69

550,444

संक्रियाओं की समझ

6. नीचे दिए प्रश्नों को हल करें-

7 6 8 5

4 6 7 3

+ 3 4 2 0

+ 1 0 1 2

7 6 3 4

8 4 6 7

- 4 3 1 2

- 1 2 4 8

7 6 3

7 6 7

X 6



X 3

5

7. रामलाल अपने बेटे के लिए 178 रुपये की नोटबुक और 185 रुपये का बैग लेकर आया। बताइए रामलाल कुल कितने रुपये का सामान खरीदकर

8. एक पेन की कीमत 9 रुपये है तो 15 पैन की

9. क्रम को पहचान कर आगे बढ़ाइए -

←—————→

जाँचकर्ता की टिप्पणी :-.....
.....
.....
.....
.....