



सत्रारम्भ : आधार रेखा आकलन/पदस्थापन

सत्र : 2017-18

कक्षा :- 5

विषय :- गणित


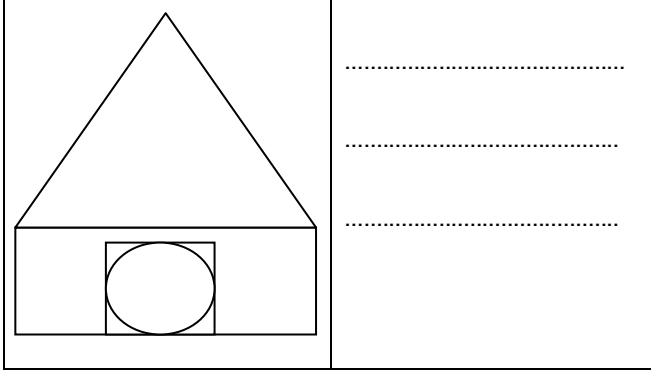
दिनांक :-

विद्यार्थी का नाम :-

रोल नं. :-

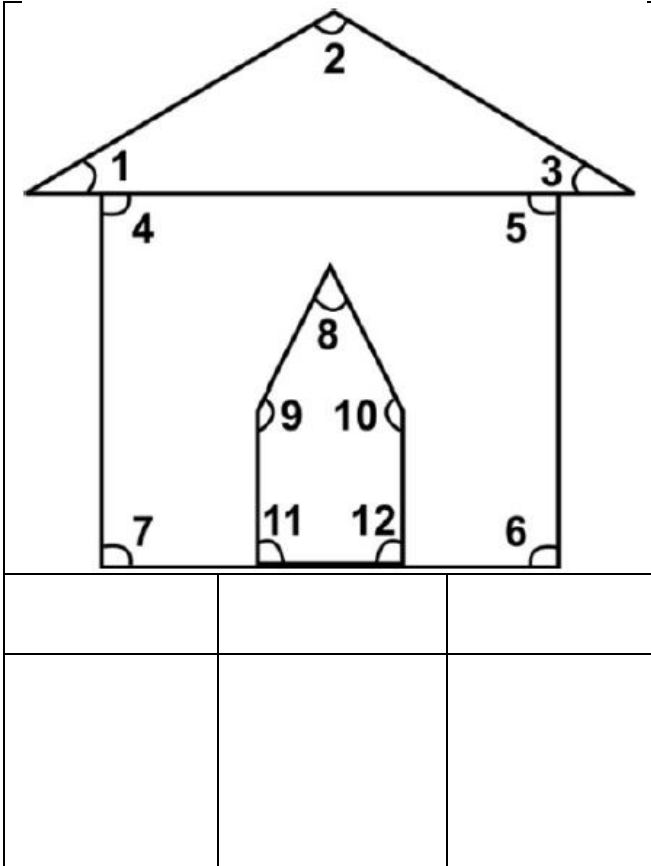
1. नीचे दिए गए चित्र में आकृतियों को पहचानकर

3. संख्या चार्ट को पूरा कीजिए-



2. नीचे बनी आकृति में पूछे गए समस्त प्रकार के कोणों को अंकित किया गया है। इन कोणों को छाँटकर

4. पहाड़े लिखिए-



5. अंको को शब्दों लिखें-

(i) 1540 =

.....

(ii) 4408 =

.....

(iii) 6369 =

115, 118

79, 69

550, 444

7. नीचे दिए प्रश्नों को हल करें-

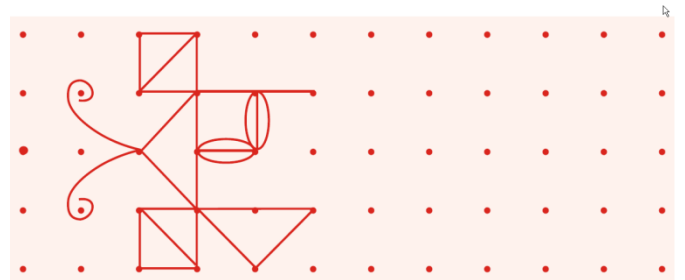
7 6 8 5	4 6 7
3	
+ 3 4 2 0	+ 1 0 1 2
_____	_____
_____	_____

7 6 3 4	8 4 6 7
- 4 3 1 2	- 1 2 4 8
_____	_____
_____	_____

7 6 3	7 6 7
X 6	X 3
5	
_____	_____
_____	_____
_____	_____

11. क्रम को पहचान कर आगे बढ़ाइए -

8. एक नगर में 15708 पुरुष है 12985 महिलाएं और



9. एक पंखे का मूल्य 800 रुपये है तो 12 पंखों का

←—————→
 जाँचकर्ता की टिप्पणी :-.....

