




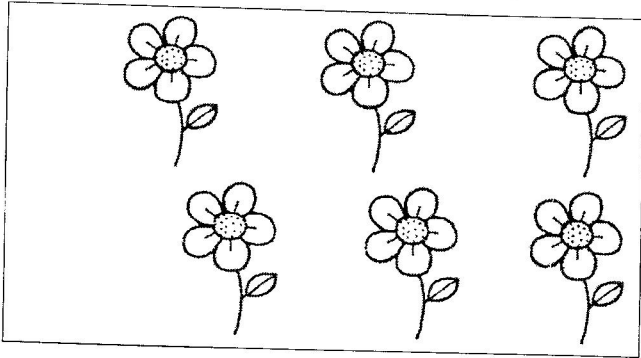
4. ठीक पहले एवं ठीक बाद की संख्या लिखिए -

..... , 20 , .....

..... , 41 , .....

..... , 29 , .....

5. जो कम है, उनको पेंसिल से काला कीजिए -



(III) संक्रियाओं की समझ

6. नीचे दिए प्रश्नों को हल कीजिए -

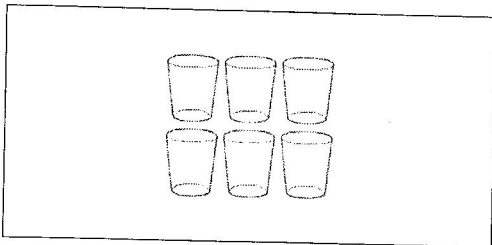
(i)  $5 + 3 = \square$

(ii)  $8 - 3 = \square$


(iii) 
$$\begin{array}{r} 25 \\ + 24 \\ \hline \end{array}$$

(iv) 
$$\begin{array}{r} 48 \\ - 25 \\ \hline \end{array}$$



7. खाली डिब्बे में कितने चित्र आएँगे? बनाइए -




+




=



-



=



(IV) पैटर्न की समझ

8. क्रम को पहचान कर आगे बढ़ाइए-

(i)		.....
(ii)		.....

जाँचकर्ता की टिप्पणी

नाम, मोबाइल नम्बर एवं हस्ताक्षर

दिनांक : .....